

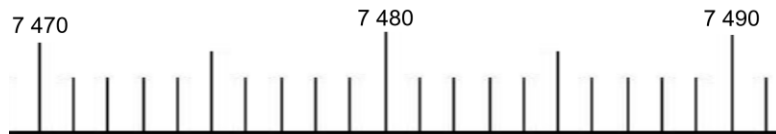
CM1

## Le nombre du jour (2)

1/ écrire dans le tableau :

millions			mille			unités		
C	D	U	C	D	U	C	D	U

2/ Placer sur la droite graduée le nombre :



3/ Encadrer le nombre à la dizaine près :

\_\_\_\_\_ &lt; ..... &lt; \_\_\_\_\_

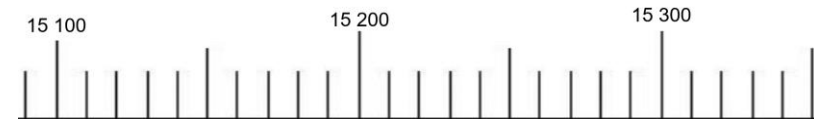
CM1

## Le nombre du jour (2)

1/ écrire dans le tableau :

millions			mille			unités		
C	D	U	C	D	U	C	D	U

2/ Placer sur la droite graduée le nombre :



3/ Encadrer le nombre à la centaine près :

\_\_\_\_\_ &lt; ..... &lt; \_\_\_\_\_

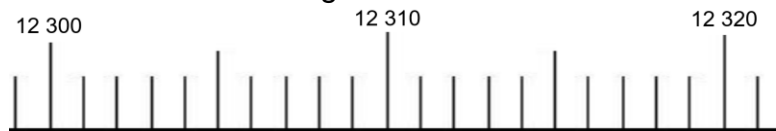
CM1

## Le nombre du jour (2)

1/ écrire dans le tableau :

millions			mille			unités		
C	D	U	C	D	U	C	D	U

2/ Placer sur la droite graduée le nombre :



3/ Encadrer le nombre à la dizaine près :

\_\_\_\_\_ &lt; ..... &lt; \_\_\_\_\_

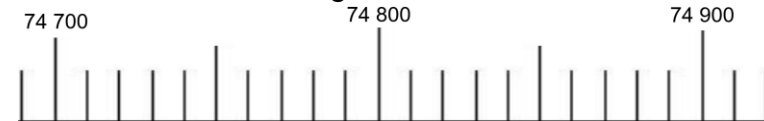
CM1

## Le nombre du jour (2)

1/ écrire dans le tableau :

millions			mille			unités		
C	D	U	C	D	U	C	D	U

2/ Placer sur la droite graduée le nombre :



3/ Encadrer le nombre à la centaine près :

\_\_\_\_\_ &lt; ..... &lt; \_\_\_\_\_